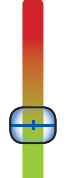




Ardèche

Saint-Jean-le-Centenier

Très difficile



Très facile



1 h



2,2 km



Parking de l'église

Le village est situé sur la route d'Alba à la limite des couches basaltiques coironnaises (pierres noires) et des couches calcaires (pierres blanches).

Cette particularité fait du village un bel ensemble de maisons dont les façades forment un échiquier noir et blanc. L'aspect noir des pierres basaltiques lui a valu le nom de Saint-Jean-le-Noir.

Le village a été fortifié au Moyen Age à l'époque de la Guerre de Cent ans et garde encore des éléments de renforts. Les rues s'articulent autour de l'église fortifiée mentionnée dès 1137.

Les rues typiques au sol pavé et aux passages voûtés possèdent quelques portes anciennes dont chacune est présentée grâce à de petites plaques.



Road-book

Soyez vigilants avec vos enfants notamment sur les zones non piétonnes. Le parcours s'effectue sous votre entière responsabilité. L'Office de tourisme et la société Randoland déclinent toute responsabilité en cas d'accident.

Se garer sur le parking de l'église.
Commencer par aller observer cette dernière ❶.
Dos à l'église, prendre à droite dans la rue Intérieure. Rester dans cette dernière, passer sous l'arche et s'arrêter pour observer la porte n° 9 ❷.
Prendre ensuite à gauche pour observer la mairie ❸.
Se diriger vers l'ancien lavoir maintenant transformé en fontaine ❹.
Puis observer la croix ❺.
Continuer dans la même direction et avant le virage à droite, regarder la maison avec les génoises sur la droite ❻.
Continuer tout droit sur la petite

route et une centaine de mètres plus loin emprunter le petit chemin qui descend et longe la route. Continuer sur ce chemin et observer les plantations ❼.
Descendre jusqu'à la rivière et la traverser (Attention les pierres peuvent être glissantes). Continuer en face à travers les fourrés pour récupérer le chemin qui monte le long du ruisseau. Au niveau des vignes, longer ces dernières par la droite, passer à droite de la maison puis récupérer le chemin à gauche. Au croisement, prendre à droite et continuer tout droit jusqu'à récupérer la route. Observer le point de vue sur le village du centre du pont ❽.

Continuer en direction du centre du village et au niveau de la mairie prendre en face à gauche dans la rue des Arceaux. Continuer dans la rue du Boulanger et une fois sur la rue des Abeilles prendre à droite puis encore à droite sur la Place de Clastres pour retourner au point de départ.

Après le point n° 7, si le Gué est infranchissable faire demi tour et suivre les pointillés bleu pour finir la balade.



L'Inspecteur Rando descend la rivière. Mais par où va-t-il passer ?
 Pour découvrir le chemin emprunté, utilise les informations de la page suivante.
 Attention, l'Inspecteur Rando ne doit jamais revenir sur ses pas ! Chaque fois qu'il trouvera
 une bouée sur sa route, colorie, dans l'ordre, une bouée de la frise.



Tu peux te rendre à l'Office de Tourisme ou sur le site www.randoland.fr pour vérifier ta réponse (code énigme 0724701P).

1	2	3	4	5	6	7	8	9	10	

Ta réponse

1 L'Église

Quelle est la forme du clocher de l'église ?
Tu vas découvrir la première étape de l'Inspecteur Rando.



2 La porte n° 9

Parmi les trois photos ci-dessous, laquelle est la porte n° 9 ?



3 La mairie

Une seule photo n'a pas été modifiée, laquelle est-ce ?



4 L'ancien lavoir

Quelle photo te montre l'ancien lavoir devant toi ?



5 La croix

Parmi les trois croix ci-dessous, laquelle est celle devant toi ?



6 La maison aux génoises

Combien comptes-tu de génoises sur le toit tout en haut de cette maison ?



7 Les plantations

Quel fruit pousse dans cette plantation ?



8 Le point de vue

Place-toi au milieu du pont, quelle photo te montre le point de vue sur village ?



Saint-Jean-le-Centenier

ÉNIGME

Les grandes vacances c'est le moment préféré de Lila. Elle adore partir chez ses grands-parents à Saint-Jean-le-Centenier avec sa famille. Elle aime aller se balader dans la nature avec sa grand-mère et s'amuser dans la piscine avec son grand-père.

Tous les soirs avant d'aller se coucher, son papi vient lui raconter des histoires sur sa jeunesse ou sur l'histoire du village. Il lui explique qu'avant le village avait un autre nom qui lui avait été donné à cause de la couleur de ses pierres de basalte.

De retour chez elle, Lila a oublié l'ancien nom du village !

Grâce à l'Inspecteur Rando, parviendras-tu à retrouver ce dernier ?

7/9
ans

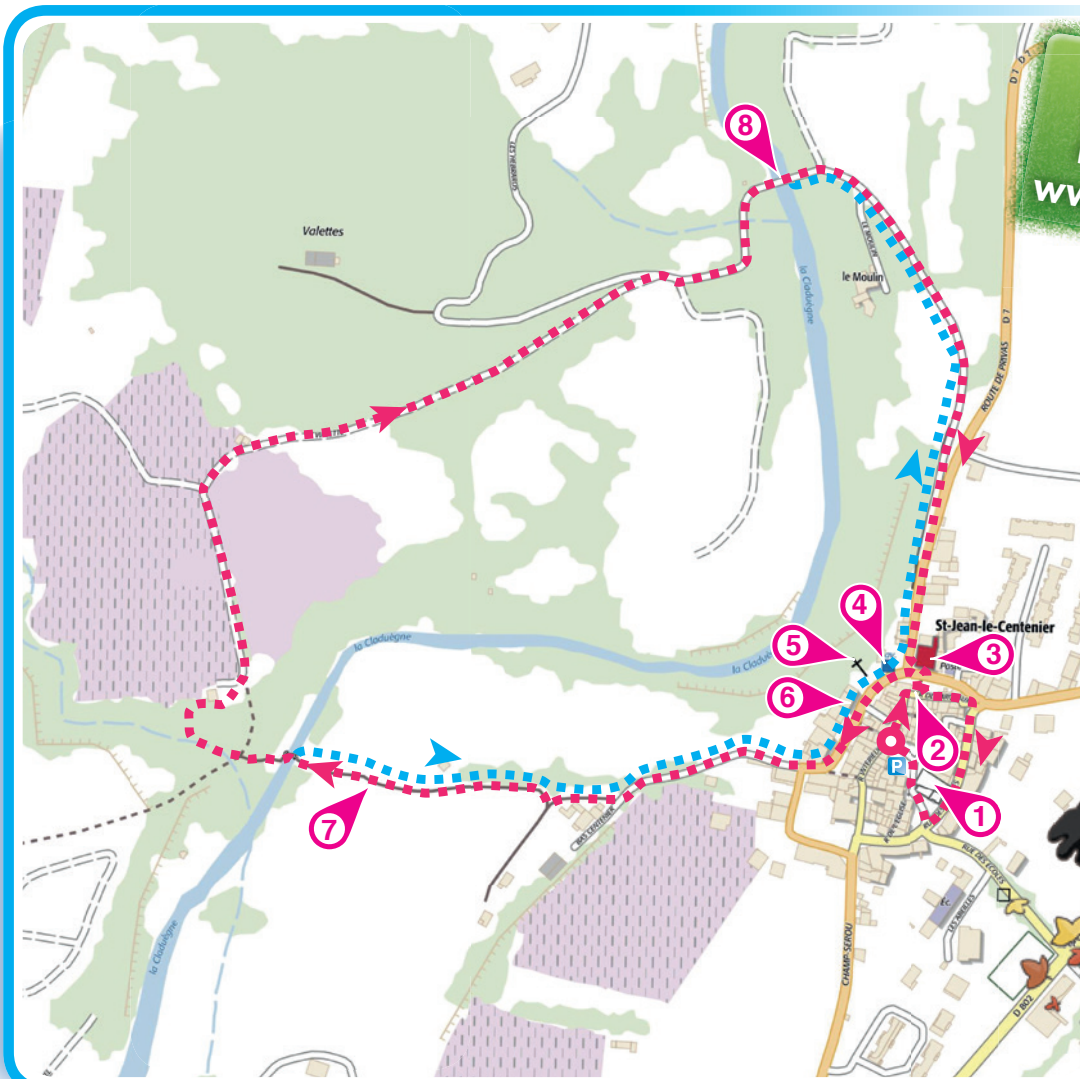


Tu disposes du plan ci-dessous.

À l'emplacement des points rouges, lis les indications qui te permettront de résoudre l'énigme principale.

À la fin de ta balade, rends-toi à l'Office de Tourisme ou sur le site www.randoland.fr pour vérifier ta réponse.

Retrouvez encore
plus de balades
partout en France sur
www.randoland.fr



Pour toutes les activités de cette fiche, reporte dans la grille de bas de page les réponses trouvées en face des nombres correspondants.

1 L'Église

Deux amies discutent de l'église.

ANISSA : Dans mon souvenir, le clocher de l'église se trouvait à droite de la porte d'entrée.

SOPHIE : Tu es sûre, il me semble bien qu'il était à gauche !

Inscris, dans la grille, le prénom de celle qui dit la vérité.

2 La porte n° 9

Regarde bien cette porte et lis le petit panneau à côté. Quel est le type de cette dernière ?

Inscris dans la grille, les lettres qui composent ta réponse, dans l'ordre alphabétique.

Ex. : TREFLE → EEFLRT

3 La mairie

Parmi les trois photos ci-dessous, qui n'a pas modifié la photo de la mairie ?



ZORA



ROSE



LOLA

Note son prénom dans la grille.

4 L'ancien lavoir

Qui des trois amis a pris en photo l'ancien lavoir ?



THIBAUT



ÉMILIE



GABRIEL

Inscris son prénom dans la grille.

5 La croix

Parmi les trois photos ci-dessous, qui a pris la croix devant toi ?



BRAYAN



JORDAN



AMAURY

Reporte son prénom dans la grille.

6 La maison aux génoises

Regarde la maison avec les génoises, combien en comptes-tu au sommet du toit ?

UN PEU D'AIDE

La génoise est une fermeture d'avant-toit formée de plusieurs rangs de tuiles-canal. Si les génoises servaient à éloigner l'eau de pluie des murs, elles n'en étaient pas moins un signe extérieur de richesse. Ainsi, 2 rangs de génoises marquaient l'appartenance de la maison à un roturier et 3 rangs à celle d'un noble.

Note, en lettre, ta réponse dans la grille.

Ex. : 7 → SEPT



7 Les plantations

Quel est le nom du fruit qui pousse dans ces plantations ?

Note ta réponse dans la grille.

8 Le point de vue

Place-toi au centre du pont. Qui des trois amis a pris en photo le point de vue sur le village ?



ANNA



FRED



MARC

Note son prénom dans la grille.


Grille réponse

Circuit n° 0724701M

1 >	■									
2 >			■			■				
3 >			■							
4 >									■	
5 >	■									
6 >					■					
7 >			■						■	
8 >			■							

Remets en ordre les caractères des cases colorées pour retrouver l'ancien nom du village.

Ta réponse :



Saint-Jean-le-Centenier

ÉNIGME

Les sentiers d'Ardèche se prêtent merveilleusement à la randonnée, que ce soit à pied, à cheval ou à VTT. Dernièrement, un groupe de cyclistes a parcouru les chemins autour de St-Jean-le-Centenier.

Ce fut l'occasion de découvrir la nature préservée, les vergers aux fruits bien appétissants, la faune sauvage des forêts...

L'un des sportifs a cependant eu très peur quand, débouchant dans une clairière, son chemin a croisé celui d'une famille de sangliers ! Il a été si effrayé que sa course s'est terminée dans le fossé !

Grâce aux indications de l'Inspecteur Rando et à ton sens de la déduction, parviendras-tu à retrouver le nom du sportif en question ?

+ 10
ans



LES CYCLYSTES*

- ▶ **Cécile Hon**, née le 23 mars 1993 à Lussas.
- ▶ **Bob Ho**, né le 7 juin 1998 à Mirabel.
- ▶ **Charles Ottofraize**, né le 30 septembre 1995 à Scautres.
- ▶ **Axel Ère**, né le 9 janvier 1988 à Aubenas.
- ▶ **Élie Coptère**, né le 12 décembre 1989 à Saint-Pons.
- ▶ **Gaspard Fait**, né le 11 février 1994 à Lavedieu.
- ▶ **Jacques Ouzi**, né le 16 avril 1990 à Villeneuve-de-Berg.
- ▶ **Larry Golade**, né le 7 octobre 1996 à Darbres.
- ▶ **René Kikoul**, né le 13 novembre 1999 à Berzème.

*Tous les noms sont bien entendu imaginaires !

Tu disposes du plan ci-dessous.

À l'emplacement des points rouges, lis les indications qui te permettront de résoudre l'énigme principale.

À la fin de ta balade, rends-toi à l'Office de Tourisme ou visite le site www.randoland.fr pour vérifier ta réponse.



Retrouvez encore
plus de balades
partout en France sur
www.randoland.fr

Lors du passage devant chacun des indices lis attentivement les indications fournies. Elles te permettront de résoudre l'énigme principale posée au verso de cette fiche.

1 L'Église

Laquelle des deux affirmations est juste ?
 $(6 \times 3) + 12$: Le clocher se trouve à gauche de la porte d'entrée de l'église.
 $(6 \times 2) - 1$: Le clocher se trouve à droite de la porte d'entrée de l'église.

Le jour de naissance d'un seul des cyclistes est égal au résultat de l'affirmation juste, ce n'est malheureusement pas lui que tu recherches.

2 La porte n° 9

Regarde bien cette porte et lis le petit panneau à côté. Quel est le type de cette dernière ?
 L'initial du prénom d'un seul des cyclistes est la même que ta réponse. Raye-le de ta liste !



3 La mairie

Parmi les trois photos ci-dessous, laquelle n'a pas été modifiée ?



BERZÈME LAVILLEDIEU DARBRES

Un seul des cyclistes est né dans le village sous la bonne photo, supprime-le de ta liste !

4 L'ancien lavoir

Quelle photo te montre l'ancien lavoir ?



$(5 \times 2) - 1$ $(5 \times 2) - 6$ $(3 \times 2) - 1$

Le mois de naissance d'un seul des cyclistes est égal au résultat de l'opération sous la bonne photo, ce n'est toujours pas lui que tu recherches !

Ex. : $(3 \times 2) + 1 = 7 \rightarrow$ Juillet

5 La croix

Parmi les trois photos ci-dessous laquelle correspond à la croix devant toi ?



AGATHE ALEX QUENTIN

Un seul des cyclistes a le même nombre de lettre dans son prénom que celui qui a pris la bonne photo, ce n'est toujours pas lui que tu recherches.

6 La maison aux génoises

Combien comptes-tu de génoises au sommet du toit de cette maison ?

UN PEU D'AIDE

La génoise est une fermeture d'avant-toit formée de plusieurs rangs de tuiles-canal. Si les génoises servaient à éloigner l'eau de pluie des murs, elles n'en étaient pas moins un signe extérieur de richesse. Ainsi, 2 rangs de génoises marquaient l'appartenance de la maison à un roturier et 3 rangs à celle d'un noble.

L'année de naissance d'un seul des cyclistes se termine par ce chiffre, barre-le de ta liste !

7 Les plantations

Quel fruit pousse dans cette plantation ?
 Combien de lettres comporte-t-il ?
 Un seul des cyclistes a le même nombre de lettre dans son nom de famille que ta réponse, supprime-le de ta liste.

8 Le point de vue

Place-toi au centre du pont. Quelle photo te montre le point de vue sur le village ?



$(10 \times 8) + (3 \times 3)$ $(10 \times 8) + (4 \times 2)$ $(10 \times 9) + (3 \times 2)$

L'année de naissance d'un seul des cyclistes se termine par le résultat de l'opération sous la bonne photo, ce n'est toujours pas lui que tu recherches !

Tu devrais avoir retrouvé le nom du cycliste.

Circuit n° 0724701G

Ta réponse: